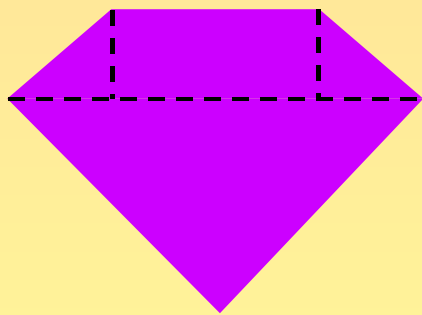
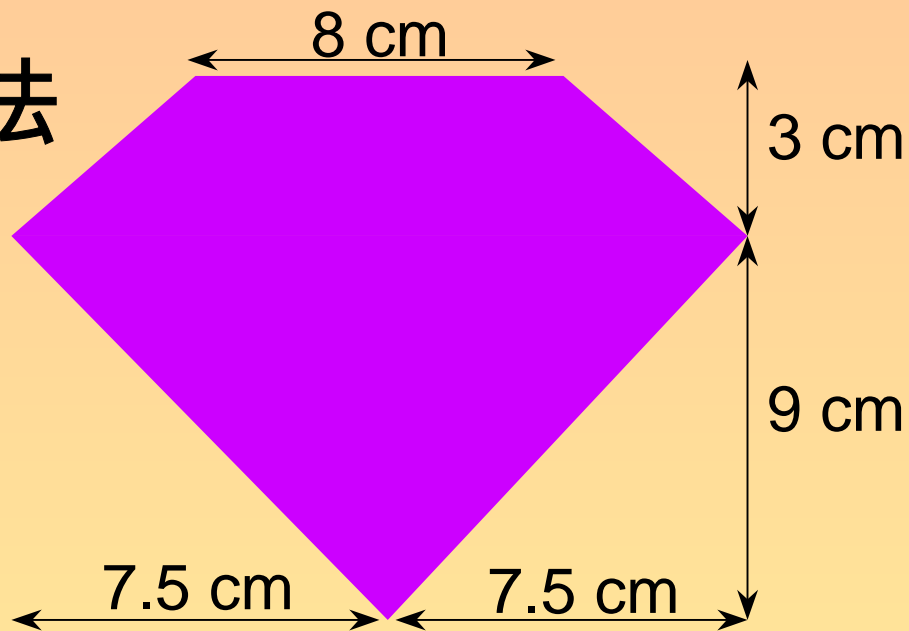
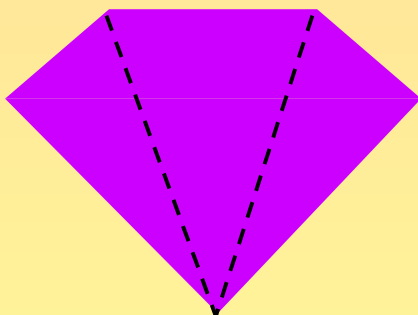



請選出一種分割方法



方法一



方法二



方法三

離開

三角形 A 和 C 的面積:

$$\frac{(7.5 + 7.5 - 8) \times 3}{2}$$

$$= 10.5 \text{ (cm}^2\text{)}$$

長方形 B 的面積:

$$8 \times 3$$

$$= 24 \text{ (cm}^2\text{)}$$

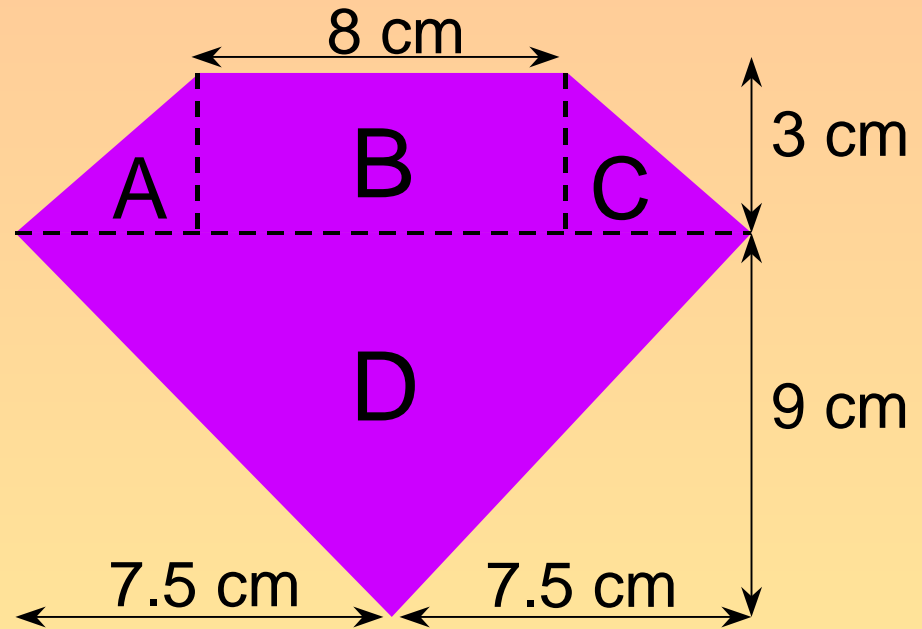
三角形 D 的面積:

$$(7.5 + 7.5) \times 9 \div 2$$

$$= 15 \times 9 \div 2$$

$$= 135 \div 2$$

$$= 67.5 \text{ (cm}^2\text{)}$$



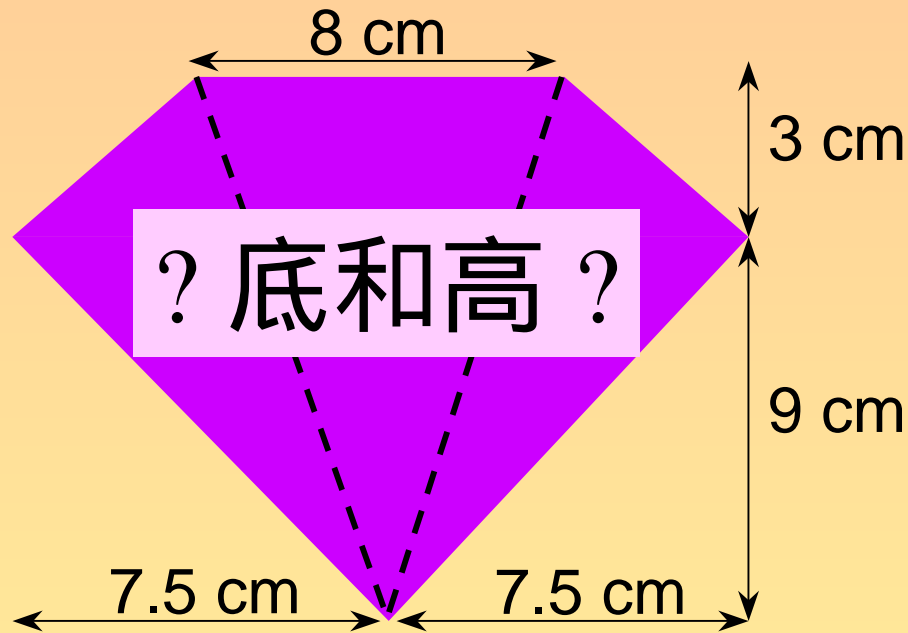
全圖的面積:

$$10.5 + 24 + 67.5$$

$$= \underline{\underline{102 \text{ (cm}^2\text{)}}}$$

返回

離開



未能計算!

返回

離開

梯形 A 的面積:

$$\frac{(8 + 7.5 + 7.5) \times 3}{2}$$

$$= 34.5(\text{cm}^2)$$

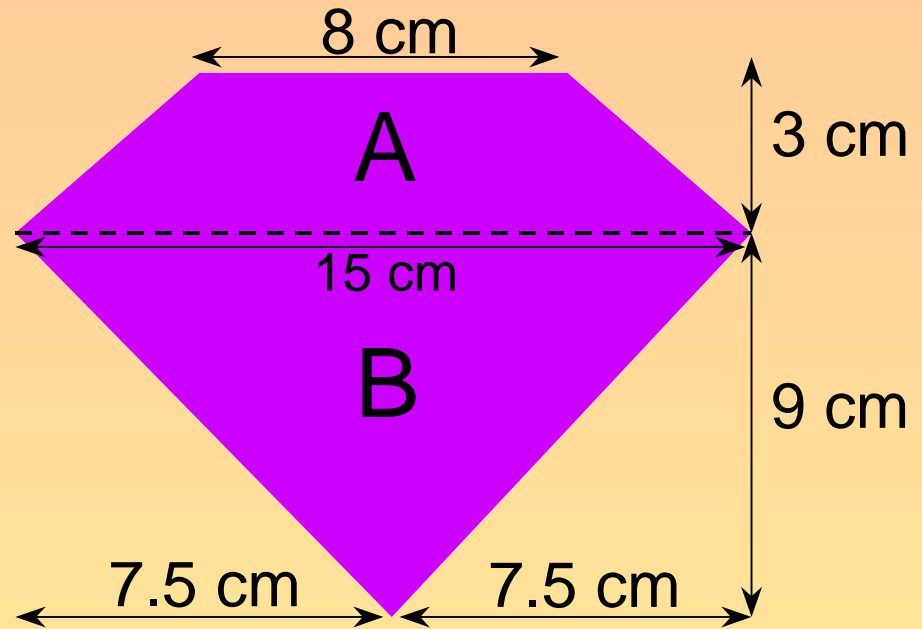
三角形 B 的面積:

$$(7.5 + 7.5) \times 9 \div 2$$

$$= 15 \times 9 \div 2$$

$$= 135 \div 2$$

$$= 67.5(\text{cm}^2)$$



全圖的面積:

$$34.5 + 67.5$$

$$= \underline{\underline{102(\text{cm}^2)}}$$

返回

離開